

**Miejsce
na naklejkę
z kodem szkoły**

dysleksja

MFA-P1_1P-072

EGZAMIN MATURALNY Z FIZYKI I ASTRONOMII

POZIOM PODSTAWOWY

Czas pracy 120 minut

**MAJ
ROK 2007**

Instrukcja dla zdającego

1. Sprawdź, czy arkusz egzaminacyjny zawiera 11 stron (zadania 1 – 23). Ewentualny brak zgłoś przewodniczącemu zespołu nadzorującego egzamin.
2. Rozwiązania i odpowiedzi zapisz w miejscu na to przeznaczonym przy każdym zadaniu.
3. W rozwiązaniach zadań rachunkowych przedstaw tok rozumowania prowadzący do ostatecznego wyniku oraz pamiętaj o jednostkach.
4. Pisz czytelnie. Używaj długopisu/pióra tylko z czarnym tuszem/atramentem.
5. Nie używaj korektora, a błędne zapisy wyraźnie przekreśl.
6. Pamiętaj, że zapisy w brudnopisie nie podlegają ocenie.
7. Podczas egzaminu możesz korzystać z karty wybranych wzorów i stałych fizycznych, linijki oraz kalkulatora.
8. Wypełnij tę część karty odpowiedzi, którą koduje zdający. Nie wpisuj żadnych znaków w części przeznaczonej dla egzaminatora.
9. Na karcie odpowiedzi wpisz swoją datę urodzenia i PESEL. Zamaluj ■ pola odpowiadające cyfrom numeru PESEL. Błędne zaznaczenie otocz kółkiem ⊙ i zaznacz właściwe.



Za rozwiązanie
wszystkich zadań
można otrzymać
łącznie
50 punktów

Życzymy powodzenia!

**Wypełnia zdający przed
rozpoczęciem pracy**

--	--	--	--	--	--	--	--	--	--

PESEL ZDAJĄCEGO

--	--	--

**KOD
ZDAJĄCEGO**

ZADANIA ZAMKNIĘTE

W zadaniach od 1. do 10. wybierz i zaznacz na karcie odpowiedzi jedną poprawną odpowiedź.

Zadanie 1. (1 pkt)

Dwaj rowerzyści poruszając się w kierunkach wzajemnie prostopadłych oddalają się od siebie z prędkością względną o wartości 5 m/s. Wartość prędkości jednego z nich jest równa 4 m/s, natomiast wartość prędkości drugiego rowerzysty wynosi

- A. 1 m/s.
- B. 3 m/s.
- C. 4,5 m/s.
- D. 9 m/s.

Zadanie 2. (1 pkt)

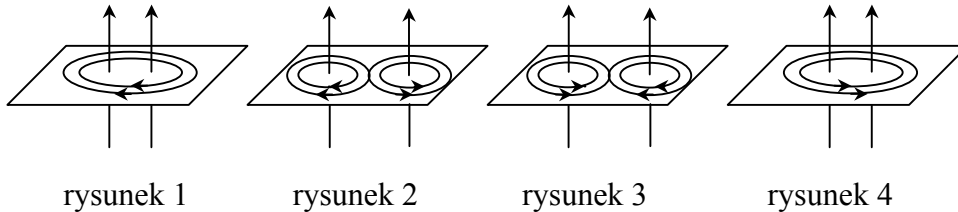
Spadochroniarz o masie 75 kg opada na spadochronie pionowo w dół z prędkością o stałej wartości 5 m/s. Siła oporów ruchu ma wartość około

- A. 25 N.
- B. 75 N.
- C. 250 N.
- D. 750 N.

Zadanie 3. (1 pkt)

Linie pola magnetycznego wokół dwóch równoległych umieszczonych blisko siebie przewodników, przez które płyną prądy elektryczne o jednakowych natężeniach, tak jak pokazano poniżej, prawidłowo ilustruje rysunek

- A. 1.
- B. 2.
- C. 3.
- D. 4.



rysunek 1

rysunek 2

rysunek 3

rysunek 4

Zadanie 4. (1 pkt)

Monochromatyczna wiązka światła wysłana przez laser pada prostopadle na siatkę dyfrakcyjną. Na ekranie położonym za siatką dyfrakcyjną możemy zaobserwować

- A. jednobarwne prążki dyfrakcyjne.
- B. pojedyncze widmo światła białego.
- C. pojedynczy jednobarwny pas światła.
- D. widma światła białego ułożone symetrycznie względem prążka zerowego.

Zadanie 5. (1 pkt)

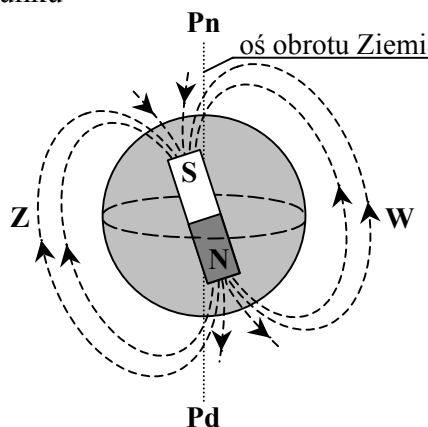
Zasada nieoznaczoności Heisenberga stwierdza, że

- A. im dokładniej ustalimy wartość pędu cząstki, tym dokładniej znamy jej położenie.
- B. im dokładniej ustalimy wartość pędu cząstki, tym mniej dokładnie znamy jej położenie.
- C. nie ma związku pomiędzy dokładnościami ustalenia wartości pędu i położenia cząstki.
- D. im mniej dokładnie znamy wartość pędu cząstki, tym mniej dokładnie możemy ustalić jej położenie.

Zadanie 6. (1 pkt)

Wiązka dodatnio naładowanych cząstek pochodzenia kosmicznego dociera do Ziemi prostopadłe do jej powierzchni w okolicach równika (rys.). W wyniku działania ziemskiego pola magnetycznego zostanie ona odchylona w kierunku

- A. północnym.
- B. południowym.
- C. wschodnim.
- D. zachodnim.



Zadanie 7. (1 pkt)

Rozciągnięcie sprężyny o 1 cm z położenia równowagi wymaga wykonania pracy 2 J. Rozciągnięcie tej samej sprężyny o 3 cm, również z położenia równowagi, wymaga wykonania pracy

- A. 6 J.
- B. 12 J.
- C. 18 J.
- D. 24 J.

Zadanie 8. (1 pkt)

Podczas przejścia wiązki światła z ośrodka o większym współczynniku załamania do ośrodka o mniejszym współczynniku załamania

	długość fali	prędkość fali
A.	rośnie,	rośnie,
B.	rośnie,	maleje,
C.	maleje,	rośnie,
D.	maleje,	maleje,

Zadanie 9. (1 pkt)

Sprawność silnika cieplnego wynosi 20%. W ciągu 1 godziny silnik oddaje do chłodnicy 20 kJ energii. W tym czasie pobiera on z grzejnika energię cieplną o wartości

- A. 25 kJ.
- B. 40 kJ.
- C. 50 kJ.
- D. 100 kJ.

Zadanie 10. (1 pkt)

Trzy czwarte początkowej liczby jąder pewnego izotopu promieniotwórczego ulega rozpadowi w czasie 24 godzin. Okres połowicznego rozpadu tego izotopu jest równy


- A. 2 godziny.
- B. 4 godziny.
- C. 8 godzin.
- D. 12 godzin.

20. Atom wodoru (3 pkt)

Elektron w atomie wodoru przechodzi z orbity drugiej na pierwszą. Atom emituje wówczas światło, którego długość fali w próżni wynosi $1,22 \cdot 10^{-7}$ m.


20.1. (1 pkt)

Oblicz częstotliwość fali wysyłanej podczas tego przejścia.



20.2. (2 pkt)

Oblicz energię emitowanego fotonu. Wynik podaj w eV.



Wypełnia egzaminator!	Nr zadania	18.2	19	20.1	20.2
	Maks. liczba pkt	4	2	1	2
	Uzyskana liczba pkt				

BRUDNOPIS